

1. O oposto de ódio é \_

- (1) inimigo (2) medo (5) amor (4) amigo (5) alegria

2. Se 2 lápis custam 5 Euros, quantos lápis podem ser comprados por 50 Euros?

- (6) 100 (7) 10 (8) 20 (9) 25 (10) 5

3. Um cão nem sempre tem \_

- (11) olhos (12) ossos (13) um focinho (14) uma coleira (15) pulmões

4. Uma recordação que é indefinida e incerta pode dizer-se que é \_

- (16) esquecida (17) firme (18) vaga (19) eminente (20) terna

5. Qual destas palavras viria, em primeiro lugar no dicionário ?

- (21) moreno (22) pilha (23) missa (24) pico (25) mineiro

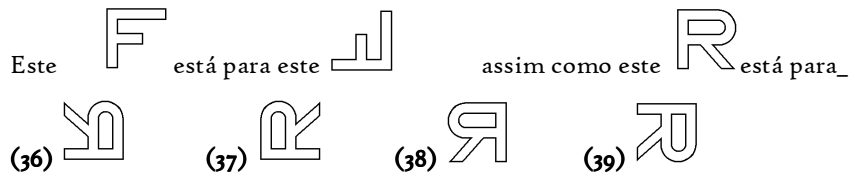
6. Uma raposa assemelha-se mais a um \_

- (26) porco (27) cabra (28) lobo (29) tigre (30) gato

7. O ouro é mais caro que a prata por ser mais \_

- (31) pesado (32) raro (33) amarelo (34) duro (35) bonito

8. O primeiro desenho abaixo está relacionado com o segundo da mesma forma que o terceiro está para um dos restantes quatro. Qual ?



9. Uma telefonia está relacionada com um telefone da mesma forma que (?) está com um comboio.

- (41) auto-estrada (42) aeroplano (43) gasolina (44) velocidade (45) barulho

10. O oposto de desperdício é \_

- (46) abundância (47) sossego (48) avareza (49) economia (50) extravagância

11. Um debate envolve sempre \_

- (51) audiência (52) juízes (53) prémio (54) controvérsia (55) auditório

12. Um grupo consistia de um homem e a sua esposa, os seus dois filhos e as suas esposas e quatro filhos de cada filho da família. Quantos eram no grupo?

- (56) 7 (57) 8 (58) 12 (59) 15 (60) 14

13. Um numero está errado na série seguinte: 1 5 2 6 3 7 4 9 5 9

Qual deveria ser esse numero?

- (61) 9 (62) 7 (63) 8 (64) 10 (65) 5

14. Uma escola é mais provável que tenha \_








- (66) mapas (67) livros (68) um contínuo (69) um professor (70) quadro negro

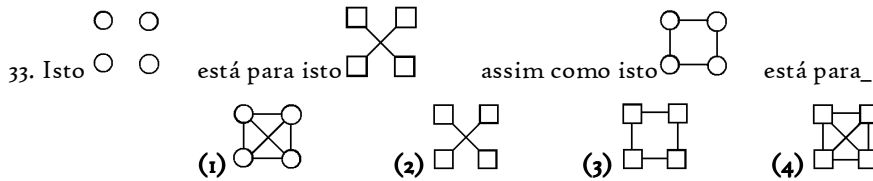
15. Que letra na palavra WASHINGTON tem o mesmo numero na palavra (contando do princípio) que tem no alfabeto?

- (71) A (72) N (73) G (74) T (75) O

16. Que palavra faz a frase mais verdadeira? Os pais são (?) mais ajuizados do que os seus filhos.

- (76) sempre (77) normalmente (78) muito (79) raramente (80) nunca

17. Quatro destas cinco coisas são semelhantes de uma forma qualquer. Qual é a que não é semelhante às outras quatro?
- (1) noz (2) nabo (3) rosa (4) maçã (5) batatas
18. O oposto de frequente é\_
- (6) ocasionalmente (7) raramente (8) nunca (9) periodicamente (10) muitas vezes
19. Isto  está para isto  como isto  está para\_
- (11)  (12)  (13)  (14) 
20. Num jantar há sempre\_
- (16) sopa (17) vinho (18) comida (19) criados (20) pratos
21. Se dez caixas cheias de maçãs pesam 400 quilogramas, e cada caixa quando vazia pesa 4 quilogramas, quantos quilogramas pesam todas as maçãs?
- (21) 40 (22) 360 (23) 396 (24) 400 (25) 404
22. Se um rapaz consegue correr à velocidade de 5 metros em 1/5 de um segundo, quantos metros percorre em 10 segundos?
- (26) 1 (27) 50 (28) 250 (29) 2 (30) 25
23. Um termómetro está relacionado com a temperatura assim como um velocímetro está com\_
- (31) depressa (32) automóvel (33) velocidade (34) tempo (35) calor
24. "Estado de mudar de local" é uma boa definição para\_
- (36) avanço (37) retardamento (38) rotação (39) movimento (40) revisão
25. Se as duas primeiras afirmações que se seguem são verdadeiras, a terceira é (?)
- Todos os residentes neste edifício são Republicanos. Carlos não é Republicano
- Carlos reside neste edifício.
- (41) verdadeiro (42) falso (43) incerto
26. Se as palavras abaixo fossem arranjadas de forma a constituírem uma boa frase, com que letra começaria a segunda palavra da frase?
- mesmo significa grande vasto o que
- (46) q (47) g (48) s (49) m (50) o
27. A luz do sol está para a escuridão assim como (?) está para a Quietude.
- (51) calado (52) som (53) escuro (54) ruído (55) luar
28. Uma avó é sempre (?) que a sua neta.
- (56) mais esperta (57) mais sossegada (58) mais velha (59) mais pequena
29. Tais coisas como aparência, modo de vestir, gostos e aversões indicam (?) de uma pessoa.
- (61) o carácter (62) a sabedoria (63) a personalidade (64) os mexericos (65) a reputação
30. Uma árvore tem sempre\_
- (66) folhas (67) frutos (68) rebentos (69) raízes (70) uma sombra
31. No geral é mais seguro julgar o carácter de um homem pela sua\_
- (71) voz (72) vestimenta (73) acção (74) riqueza (75) face
32. Qual destas palavras está relacionada com muitos, da mesma forma que excepcional está relacionada com ordinário?
- (76) nenhum (77) cada (78) mais (79) muito (80) poucos



34. O que é que está relacionado com um cubo da mesma forma que um círculo está relacionado com um quadrado?

(6) circunferência (7) vértices (8) esfera (9) sólido (10) espessura

35. Qual destes pares de palavras é mais diferente dos outros três?

(11) correr -depressa (12) vasto - grande (13) empréstimo -emprestar (14) comprar -encomenda

36. O oposto de desajeitado é\_

(16) forte (17) bonito (18) gracioso (19) pequeno (20) ligeiro

37. As duas palavras supérfluo e requisito significam\_

(21) o mesmo (22) o oposto (23) nem o mesmo nem o oposto

38. Das cinco palavras abaixo, quatro são semelhantes num sentido. Qual não é como essas quatro?

(26) empurrar (27) segurar (28) levantar (29) arrastar (30) puxar

39. A ideia de que a terra é plana é\_

(31) absurda (32) enganadora (33) improvável (34) injusta (35) maldosa

40. O oposto de leal é\_

(36) traiçoeiro (37) inimigo (38) ladrão (39) covarde (40) ciumento

41. A lua está relacionada com a terra da mesma forma que a terra está relacionado com\_

(41) Marte (42) o Sol (43) Nuvens (44) Estrelas (45) O Universo

42. O oposto de tristeza é\_

(46) diversão (47) sucesso (48) alegria (49) prosperidade (50) esperança

43. Se as primeiras duas afirmações são verdade a terceira é (?)

O Carlos é mais velho que o Jorge. O Manuel é mais velho que o Carlos»

O Jorge é mais novo do que o Manuel.

(51) verdadeira (52) falsa (53) incerta

44. Se 2,5 metros de tecido custam 100 Euros e 30 centimos, quanto custam 10 metros?

(56) 401,20 (57) 300,15 (58) 100,80 (59) 1.200,60 (60) 100,65

45. Congestionar significa trazer a junto de, condoer significa ter desgosto junto com. Portanto con significa\_

(61) trazer (62) junto (63) desgostar (64) trazer ou ter desgosto com.

46. A lei da gravidade é\_

(66) obsoleta (67) absoluta (68) aproximada (69) condicional (70) constitucional

47. Pala está para ala assim como (?) está para ódio.

(71) amor (72) trabalho (73) tala (74) pódio (75) ode

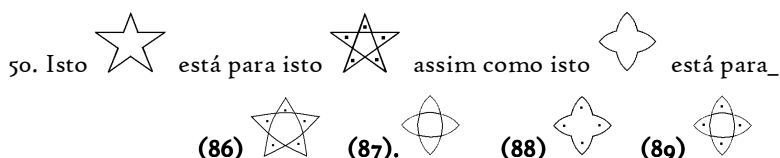
48. Se 4,5 metros de tecido custam 300,60 Euros, quanto custarão 3,5 metros?

(76) 1.321,90 (77) 300,70 (78) 233,80 (79) 323,40 (80) 105,20

49. Que número nesta série aparece pela segunda vez mais próximo do início?.

6 4 5 3 7 8 0 9 5 9 8 8 6 5 4 7 3 0 8 9 1

(81) 9 (82) 0 (83) 8 (84) 6 (85) 5



51. Se as duas primeiras afirmações são verdadeiras, a terceira é (?)

Alguns dos nossos cidadãos são Metodistas. Alguns dos nossos cidadãos são Médicos

Alguns dos nossos cidadãos são Médicos Metodistas

(1) verdadeira (2) falsa (3) incerta

52. Qual das cinco palavras abaixo é mais diferente das outras quatro?

(6) ligeiro (7) ágil (8) correr (9) rápido (10) veloz

53. À pessoa que diz coisas que sabe que são erradas chama-se\_

(11) descuidada (12) enganada (15) presumida (14) mentirosa (15) preconceituosa

54. Se as palavras abaixo fossem arranjadas de modo a formarem a melhor frase, com que letra acabaria a última palavra da frase?

Sinceridade traços cortesia carácter de desejáveis e são

(16) r (17) a (18) s (19) o (20) e

55. Se uma fita de tecido com 36cm de comprimento encolher para 33cm quando lavada, quantos centímetros de comprimento teria uma tira de 48 cm, depois de encolher?

(21) 47 (22) 44 (23) 45 (24) 46 (25) 45 1/5

56. Qual destas expressões é mais diferente das outras três?

(26) pintar quadros (27) limpar a casa (28) chegar a casa (29) Problemas do trabalho

57. Se as palavras seguintes fossem vistas numa parede olhando para um espelho na parede oposta, que palavra apareceria exactamente igual se fosse vista directamente?

(31) METE (32) ROTOR (33) MAMA (34) DEDO (35) OMO

58. Encontre as duas letras na palavra ACTOR que têm exactamente tantas letras entre elas na palavra como tem no alfabeto. Qual destas duas letras surge primeiro no alfabeto?

(36) A (37) C (38) T (39) O (40) R


59. Uma superfície está relacionada com uma linha como uma linha está para\_





(41) sólido (42) plano (43) curva (44) ponto (45) corda

60. Um número está errado na série seguinte: 1 2 4 7 11 16 23

Qual deveria ser esse numero?

(46) 3 (47) 6 (48) 10 (49) 16 (50) 22

61. Isto  está para isto  assim como isto  está para\_

(51)  (52)  (53)  (54) 

62. Quantas das seguintes palavras podem ser feitas com as letras da palavra **ESTRANGULAR** usando qualquer letra, qualquer numero de vezes?

guelra, transe, gula, estalar, relato, ralar, antes, grande

(56) 7 (57) 6 (58) 3 (59) 4 (60) 5

63. Qual das seguintes é um traço de carácter?

(61) reputação (62) riqueza (63) influência (64) instabilidade (65) força

64. Uma afirmação cujo sentido não é definido diz-se que é\_

(66) errónea (67) duvidosa (68) ambígua (69) distorcida (70) hipotética

65. Evolução está para revolução assim como gatinhar está para\_

(71) bebé (72) chão (73) estar de pé (74) correr (75) mãos e joelhos

66. Vir está para veio assim como agora está para\_

(76) hoje (77) alguma vez (78) amanhã (79) antes de agora (80) daqui para a frente

67. Um número está errado na série seguinte: 1 2 4 8 16 32 64 96

Qual deveria ser esse numero?

- (1) 3 (2) 6 (3) 12 (4) 48 (5) 128

68. Se o Jorge pode andar 60 metros numa bicicleta enquanto o Carlos anda 40 metros, quantos metros conseguiria o Jorge andar enquanto o Carlos anda 50 metros?

- (6) 50 (7) 10 (8) 75 (9) 20 (10) 70

69. Que letra, é a quarta para a esquerda da letra que está a meio entre o D e o O na palavra REPRODUÇÃO.

- (11) C (12) R (13) O (14) P (15) D

70. Qual das cinco coisas seguintes é mais parecida, com estas três: marfim, neve e leite?

- (16) manteiga (17) chuva (18) frio (19) algodão (20) água

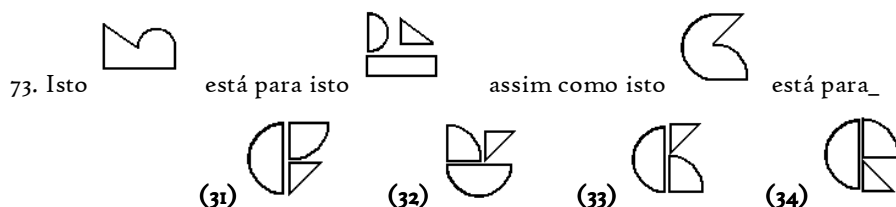
71. Um hotel serve uma mistura de 2 partes de natas e 3 partes de leite.

Quantos litros de leite serão necessários para fazer 25 litros da mistura?

- (21) 25 (22) 16,75 (23) 15 (24) 12,5 (25) 10

72. Um homem que gasta o seu dinheiro profusamente em coisas não essenciais é considerado ser\_

- (26) afortunado (27) poupado (28) extravagante (29) generoso (30) económico



74. Se as primeiras duas afirmações seguintes são correctas a terceira é (?)

Uma pessoa não se pode tornar um bom violinista sem muita prática. Carlos pratica muito no violino.

Carlos tornar-se-á num bom violinista.

- (36) verdadeira (37) falsa (38) incerta

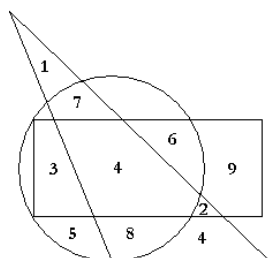
75. Qual destas expressões é mais diferente das outras três?

- (41) pequeno a minúsculo (42) bonito a maravilhoso  
(43) quente a escaldante (44) excelente a bom

76. Se as palavras abaixo fossem re-arranjadas para fazer uma boa frase, a quinta palavra da frase começaria com que letra?

Vida amigos valiosa para A fazer qualidade na é habilidade uma

- (46) l (47) a (48) v (49) t (50) t



77. Qual o número que está no espaço que está no rectângulo e no triângulo mas não no círculo?

- (51) 1 (52) 2 (53) 3 (54) 4 (55) 5

78. Qual o numero que está na mesma ou mesmas figuras geométricas (e em nenhuma mais) que o número 6 ?

- (56) 1 (57) 2 (58) 3 (59) 4 (60) 5

79. Quantos números existem que estejam cada um em duas figuras geométricas (mas somente em duas)?

- (61) 1 (62) 2 (63) 3 (64) 4 (65) 5

80. Se um arame com 100 cm de comprimento fosse cortado de modo a que uma parte seja  $\frac{2}{3}$  do comprimento da outra parte, qual o comprimento que a peça mais curta teria?

- (66) 26,75 cm (67) 29,3 cm (68) 18cm (69) 34cm (70) 40 cm